

## GYMNASE DE BURIER

## Chapitre 4 - Calcul Différentiel

Sarah Dégallier Rochat

Références

H. Bovet, "Analyse", Polymaths, 2002

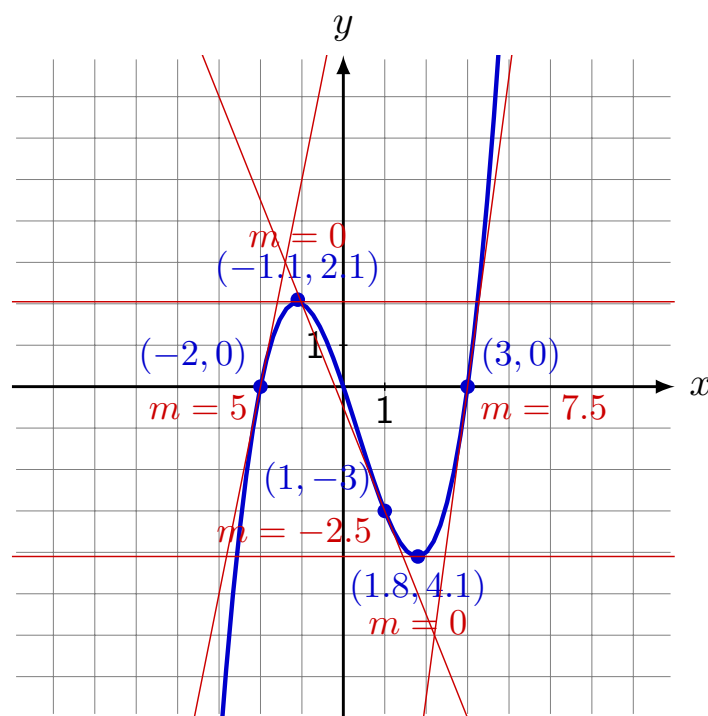
J-Ph Javet, "Introduction à la notion de dérivée", Polycopié du Gymnase de Morges

J-Ph Javet, "Dérivée d'une fonction et règles de calculs", Polycopié du Gymnase de Morges

Notes du cours donné par M. Gelsomino (2005-2008), Gymnase de Burier

## 1. La notion de dérivée

Exemple 1.1 Tracer le plus précisément possible les tangentes à la courbe aux points indiqués. Evaluer la pente de la tangente en ces points.



On peut schématiser la fonction précédente comme suit

$x$	$-\infty$	$-1.1$		$1.8$	$+\infty$	
$m$		$+$	$0$	$-$	$0$	$+$
$f(x)$			$2.1$		$+\infty$	
	$-\infty$			$-4.1$		

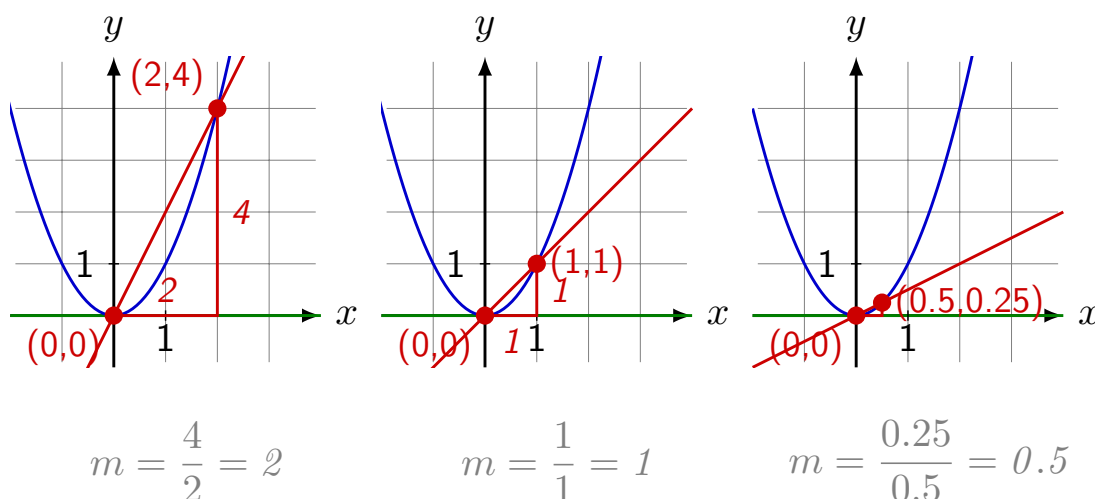
**Définition 1.1** La **dérivée d'une fonction** en un point correspond à la **pente de la tangente** à la fonction en ce point.

La dérivée nous sera utile pour

1. **Tangente** : Calculer l'équation de la tangente d'une courbe en un point
2. **Croissance de la droite** : Savoir si la courbe "monte" ( $m > 0$ ) ou "descend" ( $m < 0$ )
3. **Optimisation** : Trouver les minima et les maxima de la fonction ( $m = 0$ )

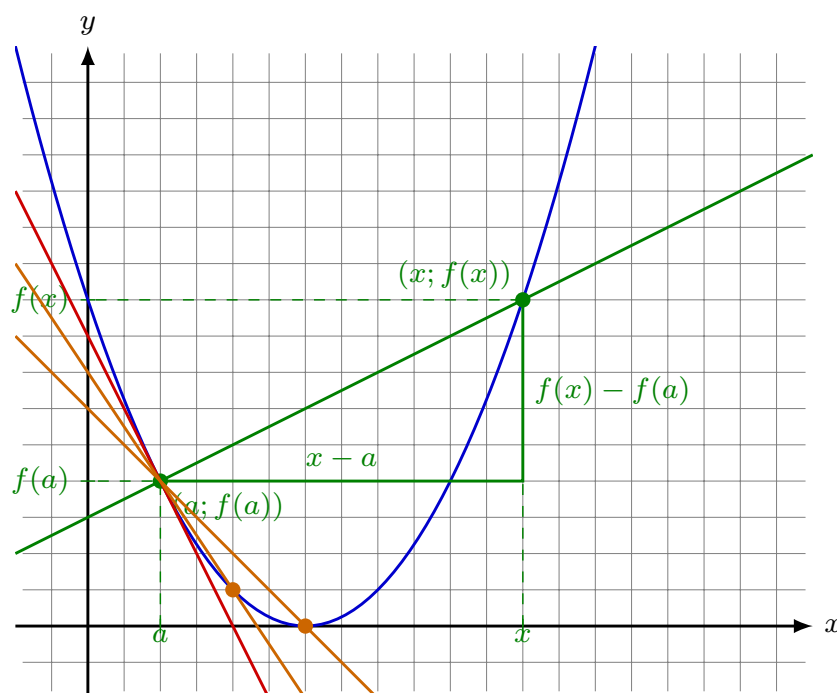
## 2. Calcul de la dérivée

**Exemple 2.1** Calculer les pentes des droites suivantes :



On sait que la pente de la tangente en  $(0;0)$  est  $m = 0$ . On remarque que plus on prend un point proche de  $(0,0)$ , plus la droite reliant les deux points a une pente proche de celle de la tangente.

Exemple 2.2 Calculer la pente de la droite passant par les deux points donnés.



La pente de la droite vaut  $m = \frac{f(x) - f(a)}{x - a}$ . Plus  $a$  s'approche de  $x$ , plus la pente de la droite est proche de la tangente.

Définition 2.1 La dérivée d'une fonction  $f(x)$  en un point  $a$ , notée  $f'(a)$ , est définie comme la limite suivante :

$$f'(a) = \lim_{x \rightarrow a} \frac{f(x) - f(a)}{x - a}$$

Par extension, on définit la dérivée d'une fonction comme sa dérivée en chaque point et on la note  $f'(x)$ .

Exemple 2.3 Calculer la dérivée des fonctions suivantes.

$$\begin{aligned} 1. \quad x^2 : f'(a) &= \lim_{x \rightarrow a} \frac{x^2 - a^2}{x - a} = \text{„}\frac{0}{0}\text{”} = \lim_{x \rightarrow a} \frac{(x - a)(x + a)}{x - a} \\ &= \lim_{x \rightarrow a} (x + a) = 2a \end{aligned}$$

$$\begin{aligned} 2. \quad x^3 : f'(a) &= \lim_{x \rightarrow a} \frac{x^3 - a^3}{x - a} = \text{„}\frac{0}{0}\text{”} = \lim_{x \rightarrow a} \frac{(x - a)(x^2 + ax + a^2)}{x - a} \\ &= \lim_{x \rightarrow a} (x^2 + ax + a^2) = a^2 + a^2 + a^2 = 3a^2 \end{aligned}$$

Exercice 2.1 Calculer l'équation de la tangente à la courbe  $f(x) = x^2$  au point d'abscisse  $x = 2$ .

On commence par calculer les coordonnées du point :

$$x = 2 \Rightarrow f(2) = 2^2 = 4$$

On calcule

$$f'(3) = \lim_{x \rightarrow 2} \frac{x^2 - 2^2}{x - 2} = \lim_{x \rightarrow 2} \frac{(x - 2)(x + 2)}{x - 2} = \lim_{x \rightarrow 2} (x + 2) = 4$$

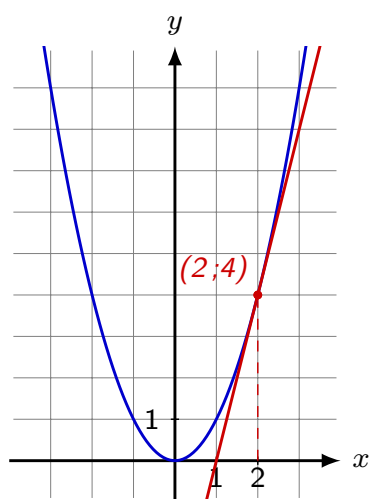
On sait donc que  $m = 4$  et donc

$$y = 4x + h$$

Le point  $(2; 4)$  fait partie de la droite, on remplace donc :

$$\begin{array}{rcl} 4 & = & 4 \cdot 2 + h \\ 4 & = & 8 + h \\ -4 & = & h \end{array} \quad \left| \begin{array}{l} \text{CN} \\ -8 \end{array} \right.$$

On a donc  $y = 4x - 4$ .



### 3. Règles de calcul

On a vu que

$$1. (x^2)' = 2x = 2x^{2-1}$$

$$2. (x^3)' = 3x^2 = 3x^{3-1}$$

On peut généraliser cette règle à n'importe quelle puissance.

Règle 3.1  $(kx^n)' = nkx^{n-1}$  avec  $k \in \mathbb{R}$ ,  $n \in \mathbb{Q}$ .

Rappel 3.1 On a que  $x^{-n} = \frac{1}{x^n}$  et  $x^{\frac{1}{n}} = \sqrt[n]{x}$

Exemple 3.1 Déterminer les dérivées des fonctions suivantes

$$1. (5x^8)' = 5 \cdot (x^8)' = 5 \cdot 8 \cdot x^{8-1} = 40x^7$$

$$2. \left(\frac{6}{x^3}\right)' = 6 \cdot \left(\frac{1}{x^3}\right)' = 6 \cdot (x^{-3})' = 6 \cdot (-3) \cdot x^{-3-1} = -\frac{18}{x^4}$$

$$3. (2\sqrt[3]{x})' = 2 \cdot (\sqrt[3]{x})' = 2 \cdot (x^{\frac{1}{3}})' = 2 \cdot \frac{1}{3} \cdot x^{\frac{1}{3}-1} = \frac{2}{3} x^{-\frac{2}{3}} = \frac{2}{3\sqrt[3]{x^2}}$$

Exercice 3.1 Calculer les dérivées suivantes

$f(x)$	$f'(x)$	Détail du calcul
3	0	$(3)' = (3x^0)' = 3 \cdot 0 \cdot x^{0-1} = 0$
$k \in \mathbb{R}$	0	$(k)' = (kx^0)' = k \cdot 0 \cdot x^{0-1} = 0$
$x$	1	$(x)' = (x^1)' = 1 \cdot x^{1-1} = 1$
$3x$	3	$(3x)' = 3 \cdot (x^1)' = 3 \cdot 1 = 3$
$x^2$	$2x$	$(x^2)' = 2x^{2-1} = 2x$
$x^3$	$3x^2$	$(x^3)' = 3x^{3-1} = 3x^2$
$\frac{1}{x}$	$-\frac{1}{x^2}$	$\left(\frac{1}{x}\right)' = (x^{-1})' = -1 \cdot x^{-1-1} = -\frac{1}{x^2}$
$\sqrt{x}$	$\frac{1}{2\sqrt{x}}$	$(\sqrt{x})' = \left(x^{\frac{1}{2}}\right)' = \frac{1}{2}x^{\frac{1}{2}-1} = \frac{1}{2}x^{-\frac{1}{2}} = \frac{1}{2\sqrt{x}}$
$\sqrt[3]{x}$	$\frac{1}{3\sqrt[3]{x^2}}$	$(\sqrt[3]{x})' = \left(x^{\frac{1}{3}}\right)' = \frac{1}{3}x^{\frac{1}{3}-1} = \frac{1}{3}x^{-\frac{2}{3}} = \frac{1}{3\sqrt[3]{x^2}}$

## 4. Propriétés de la dérivée

Soit  $f(x)$  et  $g(x)$  deux fonctions dérivables.

Propriété 4.1  $\boxed{(f(x) \pm g(x))' = f'(x) \pm g'(x)}$

Exemple 4.1 Calculer  $[4x^9 - 5x^4]'$

$$(4x^9 - 5x^4)' = (4x^9)' - (5x^4)' = 36x^8 - 20x^3$$

Propriété 4.2  $\boxed{[(f(x))^n]' = n \cdot (f(x))^{n-1} \cdot f'(x)}$

Exemple 4.2 Calculer  $[(3x^7 + 2)^3]'$

$$\begin{aligned} [(3x^7 + 2)^3]' &= 3 \cdot (3x^7 + 2)^2 \cdot (3x^7 + 2)' = 3 \cdot (3x + 2)^2 \cdot 21x^6 \\ &= 63x^6(3x + 2)^2 \end{aligned}$$

Propriété 4.3  $\boxed{[f(x) \cdot g(x)]' = f'(x) \cdot g(x) + f(x) \cdot g'(x)}$

Exemple 4.3 Calculer  $[(x^2 + 1) \cdot (2x + 3)]'$

$$\begin{aligned} [(x^2 + 1) \cdot (2x + 3)]' &= (x^2 + 1)' \cdot (2x + 3) + (x^2 + 1) \cdot (2x + 3)' \\ &= 2x \cdot (2x + 3) + (x^2 + 1) \cdot 2 \\ &= 4x^2 + 6x + 2x^2 + 2 = 6x^2 + 6x + 2 \end{aligned}$$

Propriété 4.4  $\boxed{\left[\frac{f(x)}{g(x)}\right]' = \frac{f'(x) \cdot g(x) - f(x) \cdot g'(x)}{(g(x))^2}}$

Exemple 4.4 Calculer  $\left[\frac{2x - 3}{x - 5}\right]'$

$$\begin{aligned} \left[\frac{2x - 3}{x - 5}\right]' &= \frac{(2x - 3)' \cdot (x - 5) - (2x - 3) \cdot (x - 5)'}{(x - 5)^2} \\ &= \frac{2 \cdot (x - 5) - (2x - 3) \cdot 1}{(x - 5)^2} = \frac{2x - 10 - 2x + 3}{(x - 5)^2} \\ &= -\frac{7}{(x - 5)^2} \end{aligned}$$

Définition 4.1 On appelle la dérivée de la dérivée d'une fonction sa **dérivée seconde** et on la note  $f''(x)$ .

Exemple 4.5 Calculer la dérivée seconde de la fonction

$$f(x) = 15x^7 - 3x^6 + 10x^4 - 3x^2 + 5x + 2$$

$$\begin{aligned} f'(x) &= [15x^7 - 3x^6 + 10x^4 - 3x^2 + 5x + 2]' \\ &= 105x^6 - 18x^5 + 40x^3 - 6x + 5 \\ f''(x) &= [f'(x)]' = [105x^6 - 18x^5 + 40x^3 - 6x + 5]' \\ &= 630x^5 - 360x^4 + 120x^2 - 6 \end{aligned}$$

## 5. Tangente à une courbe en un point donné

Exemple 5.1 Soit  $f(x) = x^2 - \sqrt{x} - 10$  au point d'abscisse  $x = 1$ .

*On cherche une équation du type  $y = mx + h$ . On commence par calculer la deuxième coordonnée du point :*

$$f(1) = 1^2 - \sqrt{1} - 10 = 1 - 1 - 10 = -10$$

*Le point a donc pour coordonnées  $(1; -10)$*

*La dérivée de la fonction en ce point nous donnera la pente de la tangente. On a donc*

$$f'(x) = [x^2 - \sqrt{x} - 10]' = 2x - \frac{1}{2\sqrt{x}} = 2x - \frac{\sqrt{x}}{2x} = \frac{4x^2 - \sqrt{x}}{2x}$$

*On évalue la dérivée en  $x = 1$  pour trouver la pente de la tangente en ce point :  $f'(1) = \frac{4 - 1}{2} = \frac{3}{2}$ .*

*On a donc  $m = \frac{3}{2}$  et donc  $y = \frac{3}{2}x + h$ . On sait que la droite passe par le point  $(1; -10)$ , on peut donc remplacer dans l'équation :*

$$\begin{array}{lcl} & -10 & = \frac{3}{2} \cdot 1 + h \\ \Leftrightarrow & -\frac{20}{2} - \frac{3}{2} & = h \\ & \Leftrightarrow -\frac{23}{2} & = h \end{array} \quad \left| \begin{array}{l} -\frac{3}{2} \\ CN \end{array} \right.$$

*L'équation de la tangente est donc donnée par  $y = \frac{3}{2}x - \frac{23}{2}$ .*

Esquisser la tangente trouvée sur le graphique ci-dessous.

